

SI - 2041

<small>しょうがく</small> 小学1年	<small>なまえ</small> 名前	
---------------------------	-----------------------	--

わかっている すうじ 数字を つかって しき 式を立て、こた 答えを もとめましょう。

①いちごが 2こ   あります。1こ  もらいました。いちごは、ぜんぶで なんこに なりました。




しき 式

2 + 1 =

たす とよみます。
ふえるときに
つかいます。

は(わ) とよみます。
ひだり 左の式の数と みぎ 右の答えの数が
おなじということです。

こた 答え _____ こ

②りんごが 1こ 、みかんが 2こ   あります。りんごと みかんを あわせると、ぜんぶで なんこですか。

しき 式

+ =

こた 答え _____ こ

③パトカーが 3だい とまっています。あとから、もう 2だいの パトカーが きました。パトカーは、なんだいに なりましたか。 くるま 車は、いちだいにだいと かず 数えます。

しき 式




+ =

こた 答え _____ だい

④白いうさぎが 1ひき、くろいうさぎが 4ひき います。白と くろの うさぎは、ぜんぶで なんひきですか。 ちい 小さい どうぶつや むし 虫は、いっぴきにひきと 数えます。

しき 式



こた 答え _____ ひき

⑤うまが 2とう います。うしは 3とう います。うまと うしを たすと、 なんとうに なりますか。 おお 大きい どうぶつは、いっとう にとうと かず 数えます。

しき 式









こた 答え _____ とう

SI - 2042

しょうがく ねん 小学1年	なまえ 名前	
------------------	-----------	--

わかっている 数字をつかって 式を立て、答えをもとめましょう。

①みかんが 2こ   あります。4こ     ふえました。

みかんは、ぜんぶで なんこに なりましたか。

式

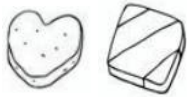
+ =

答え

こ

②ハートの かたちの クッキーが 3こ、四角い かたちの クッキーが 5こ あります。クッキーは、あわせて なんこ ありますか。

式




=

答え

③たまねぎが 4こ、ジャガイモが 3こ あります。たまねぎと ジャガイモを あわせると、なんこですか。

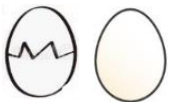
式



答え

④たまごが、1こ われました。われてない たまごは 7こです。たまごは、ぜんぶで なんこ ありますか。

式



答え

⑤ひこうきが 6き、ヘリコプターが 2き あります。りょうほう あわせると、ぜんぶで なんき ですか。

ひこうきなどは、いっき にきと 数えます。

式



答え

SI - 2043

しょうがくねん 小学1年	なまえ 名前	
-----------------	-----------	--

わかっている 数字をつかって 式を立て、答えをもとめましょう。

- ①おにぎりが 4こ、パンが 2こ あります。おにぎり と パンは、あわせて なんこ ですか。

式

=



答え

- ②白い とけいが 4こ、くろい とけいも 4こ あります。白い とけいと くろい とけいを たすと、ぜんぶで なんこ ですか。

式



答え

- ③白い けしゴムが 1こ、くろい けしゴムが 8こ あります。けしゴムは、あわせて なんこ ですか。

式



答え

- ④ろうそくが 6本 あります。さらに、3本 ふえました。ろうそくは、ぜんぶで なん本 になりましたか。

式



答え

- ⑤ひらいている かさが 2本、とじている かさが 6本 あります。かさは、あわせて なん本 ありますか。

式



答え

SI - 2044

しょうがくねん 小学1年
なまえ 名前

わかっている 数字を つかって 式を立て、答えを もとめましょう。

- ① すいそうで、金魚が 3ひき およいでいます。あたらしく、4ひきの 金魚を いました。すいそうでは、いま なんひきの 金魚が およいでいますか。

式



答え

- ② スプーンが 1本、フォークが 5本 あります。スプーンと フォークは、あわせて なん本 ですか。

式



答え

- ③ かたちの ちがう 虫めがねが、8こ と 2こ あります。虫めがねは、あわせて なんこ ありますか。

式



答え

- ④ とんぼが 9ひき、せみが 1ひき います。とんぼと せみを あわせると、ぜんぶで なんひき いますか。


式



答え

- ⑤ 犬が 6ひき、ねこが 4ひき います。犬と ねこを あわせると、ぜんぶで なんひき いますか。

式



答え

SI - 2045

しょうがくねん 小学1年	なまえ 名前	
-----------------	-----------	--

わかっている 数字を つかって 式を立て、答えを もとめましょう。

- ①かきが 2こ、りんごも 2こ あります。かきと りんごを あわせると、ぜんぶで なんこ ですか。

式



答え

- ②ちがう かたちの クリップが、5こ と 3こ あります。クリップの 数は、ぜんぶで なんこ ですか。

式





答え

- ③ハートの キャンディーが 2こ、かみに つつんだ キャンディーが 7こ あります。キャンディーは、ぜんぶで なんこ ありますか。

式



答え

- ④かぶと虫  が 1ぴき います。くわがた虫  は 6ぴき います。かぶと虫と くわがた虫を あわせると、ぜんぶで なんびき ですか。

式

答え

- ⑤きりんが 6とう います。むこうから 3とう きました。きりんは、ぜんぶで なんと になりましたか。

式



答え

しょうがくねん 小学1年	なまえ 名前	
-----------------	-----------	--

わかっている 数字をつかって 式を立て、答えをもとめましょう。

- ① やきゅうの 白い バットが 1本、くろい バットが 3本 あります。あわせて なん本の バットが ありますか。

式



答え

- ② サッカーの ボールが 5こ、やきゅうの ボールが 4こ あります。ぜんぶ あわせると、ボールは なんこ ですか。

式



答え

- ③ キャップが 7こ あります。また 3こ ふえました。キャップは、ぜんぶで なんこに なりましたか。

式



答え

- ④ かもめが 8わ とんでいます。おこうから、さらに 1わが とんできました。とんでいる かもめは、いま なんわ ですか。 とりは、いちわ にわと 数えます。

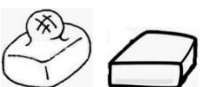
式



答え

- ⑤ もちを、2こ やいて たべました。もちは、まだ 7こ のこっています。さいしょに、もちは なんこ ありましたか。

式



答え

しょうがくねん 小学1年	なまえ 名前	
-----------------	-----------	--

わかっている 数字を つかって 式を立て、答えを もとめましょう。

- ① 白い けしゴムが 5こ、くろい けしゴムも 5こあります。りょうほう あわせると、けしゴムは なんこですか。

式



答え

- ② 白い うちわが 3本、くろい うちわが 4本 あります。うちわを ぜんぶ たすと、なん本に なりますか。


式



答え

- ③ ながい えんぴつが 2本、みじかい えんぴつが 8本 あります。えんぴつの かずは、あわせて なん本 ですか。

式



答え

- ④ うめの 花が 4りん、さくらの 花が 6りん あります。うめと さくらの 花は、あわせて なんりん ですか。 花は、いちりん にりと かぞ 数えます。


式



答え

- ⑤ どうぶつえんに、とらが 3とう、ライオンが 7とう います。とらと ライオンを あわせると、ぜんぶで なんとう ですか。

式




答え

しょうがく ねん 小学1年	なまえ 名前	
------------------	-----------	--

わかっている 数字を つかって 式を立て、答えを もとめましょう。

- ① てんとう虫が 3びき います。ちょうも 3びき とんでいます。てんとう虫とちょうは、あわせると なんびき いますか。

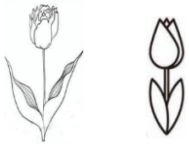
式



答え

- ② チューリップの花が、4りん さいています。チューリップの つぼみも、5りん あります。ひらいた花と つぼみは、あわせて なんりん ですか。

式



答え

りん

- ③ かいがんに、かにが 2ひき います。ほかの かにが 6ひき、すなから 出てきました。かいがんに、かには なんびき いますか。

式



答え

- ④ ソフトクリームが 7こ、ぼうの アイスクャンディーが 1こ あります。つめたい おかしは、ぜんぶで なんこ ありますか。

式



答え

- ⑤ 水ふうせんが 3こ、ふうの ふうせんが 6こ あります。ふうせんは、あわせて なんこ ですか。

式



答え

SI - 2049

しょうがくねん 小学1年	なまえ 名前	
-----------------	-----------	--

わかっている 数字を つかって 式を立て、 答えを もとめましょう。

①くりが 5こ、どんぐりが 2こ あります。くりと どんぐりを あわせると、なんこ ですか。

式



答え

②かみの みじかい 女の子が 4人、かみの ながい 女の子が 5人 います。女の子は、ぜんぶで なん人 いますか。

式



答え

③はちが 1ひき とんでいます。とおくから、9ひきも とんできました。いま、はちは なんひき いますか。

式



答え

④やきゅうの ボールが 4こ、グローブが 6こ あります。ボールと グローブを あわせると、ぜんぶで なんこですか。

式



答え

⑤ふねが 7せき 見えます。むこうにも、2せきの ふねが 見えます。ふねは、ぜんぶで なんせき 見えますか。 大きい ふねは、いっせき にせきと 数えます。

式



答え

SI - 2050

しょうがくねん 小学1年	なまえ 名前
-----------------	-----------

わかっている 数字を つかって 式を立て、答えを もとめましょう。

- ① ハロウィンの かざり、カボチャと こうもりが、それぞれ 4こ と 3こ あります。ハロウィンの かざりは、ぜんぶで なんこ ありますか。

式



答え

- ② みんなで、ゆきだるまを 2こ、ゆきうさぎを 5こ つくりました。ゆきだるまと ゆきうさぎは、あわせて なんこ できましたか。


式



答え

- ③ 3びきの うさぎが はしっています。その うしろを、6びきの かめが おいかけています。うさぎと かめは、ぜんぶで なんびき いますか。


式



答え

- ④ ぼうしを かぶっている 男の子が 7人、かぶっていない 男の子が 3人 います。男の子は、なん人 いますか。

式



答え

- ⑤ 駐車場に バスが 2だい、トラックが 8だい とまっています。バスと トラックを たすと、ぜんぶで なんだい ですか。

式



答え