

SI-2051

しょうがくねん 小学1年	なまえ 名前	
-----------------	-----------	--

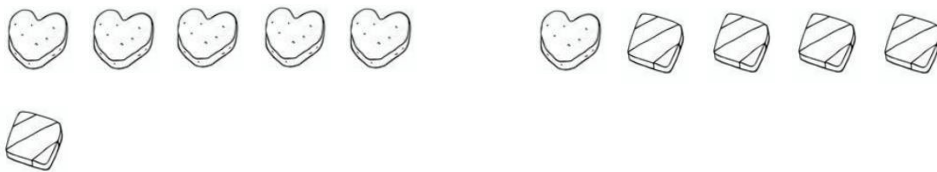
①いちごが 9こ あります。2こ もらいました。いちごは、あわせて なんこに なりましたか。


 こ

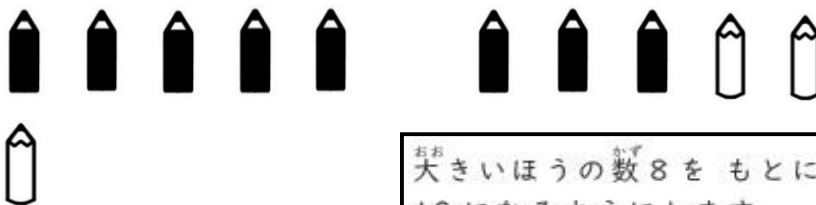
②いちりんしゃが 7だい、さんりんしゃが 4だい あります。いちりんしゃと さんりんしゃは、ぜんぶで なんだい ありますか。


 だい

③はーとのかたちのクッキーが 6こ、しかくのかたちのクッキーが 5こ あります。クッキーは、ぜんぶで なんこですか。


 こ


④ぼくは、くろい えんぴつを 8本、しろい えんぴつは 3本 もっています。ぜんぶ あわせると、ぼくは なん本の えんぴつを もっていますか。



大きいほうの数8をもとにして、10になるようにします。

 本

⑤てんとうむしが 4ひき、ちょうが 7ひきいます。てんとうむしと ちょうをあわせると、なんびきですか。



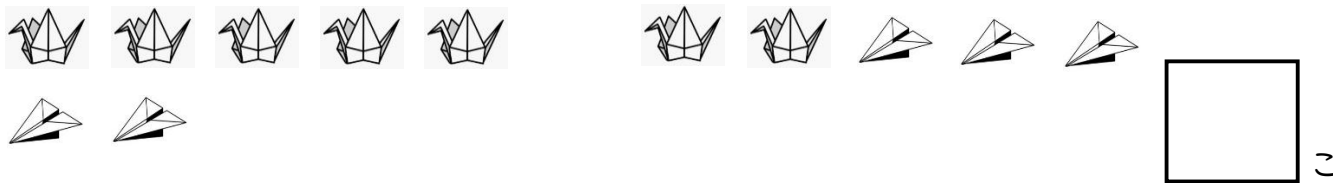
式は  $4 + 7$  ですが、大きいほうの数7をもとにして、10になるようにします。

 ひき

SI-2052

しょうがく ねん 小学1年  
なまえ 名前


①おりがみで つるを 7こ、かみひこうきを 5こ おりました。おりがみの つると かみひこうきは、ぜんぶで なんこ できましたか。


 こ

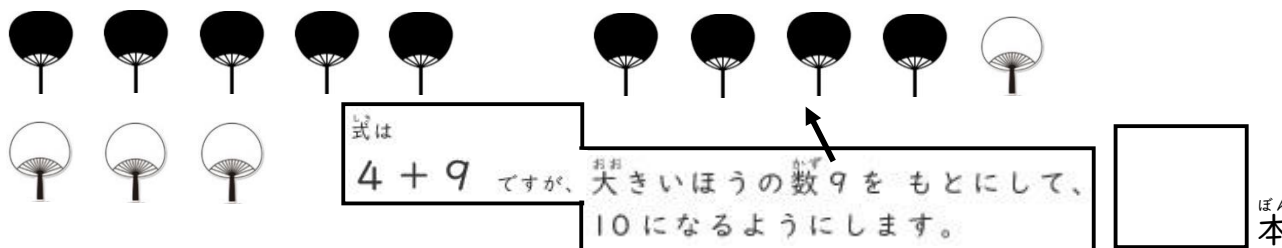
②三角のおにぎりが 9こ、たわらがたのおにぎりが 3こ あります。おにぎりは、あわせて なんこ ありますか。


 こ

③かぶと虫が 8ひき、くわがた虫が 4ひき います。二つの 虫は、ぜんぶで なんびき いますか。


 ひき

④白いうちわが 4本、くろいうちわが 9本 あります。ぜんぶ たすと、うちわは なん本 ですか。


 本

⑤ハートのかたちのキャンディーが 6こ、うずまきのキャンディーが 8こ あります。りょうほうを たすと、キャンディーは なんこ ですか。


 こ

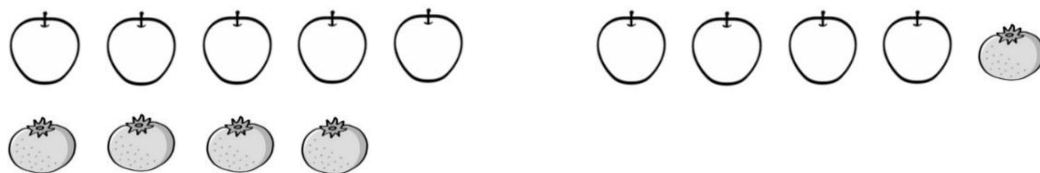
SI-2053

しょうがくねん 小学1年	なまえ 名前	
-----------------	-----------	--

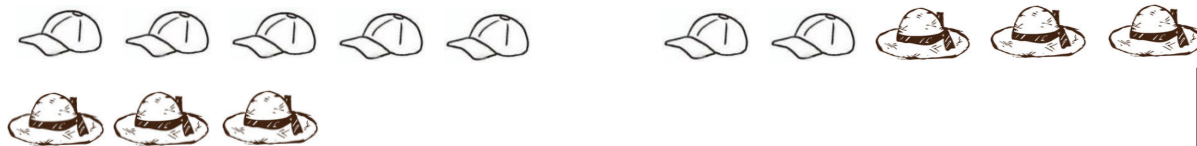
① <sup>むし</sup>虫の ~~6~~ 6ぴき、かまきりも ~~6~~ 6ぴき つかまえました。ばったと かまきりを、ぜんぶで なんびき つかまえましたか。


 ひき

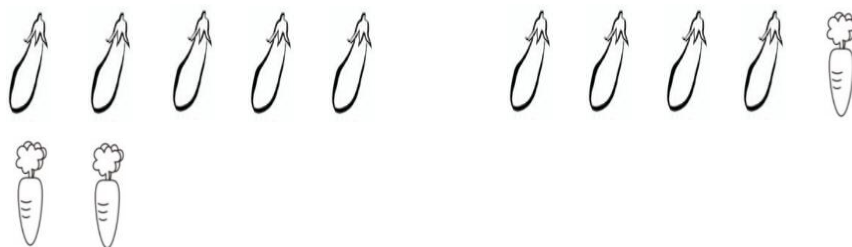
② りんごが 9こ あります。みかんを 5こ もらいました。りんごと みかんは、あわせて なんこに なりましたか。


 こ

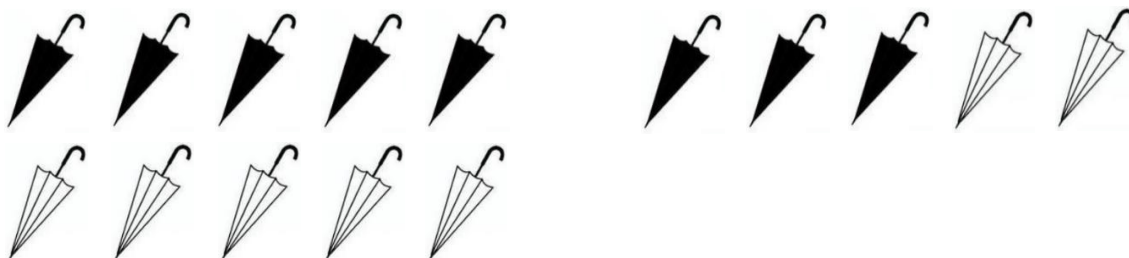
③ やきゅうぼうが 7こ、むぎわらぼうしが 6こ あります。やきゅうぼうと むぎわらぼうしを あわせると、ぜんぶで なんこですか。


 こ

④ にんじんが 3本、<sup>ほん</sup>なす(なすび)が 9本 あります。りょうほうを たすと、ぜんぶで <sup>ほん</sup>なん本ですか。 ながい なすは、1本 2本と 数えます。


 ほん本

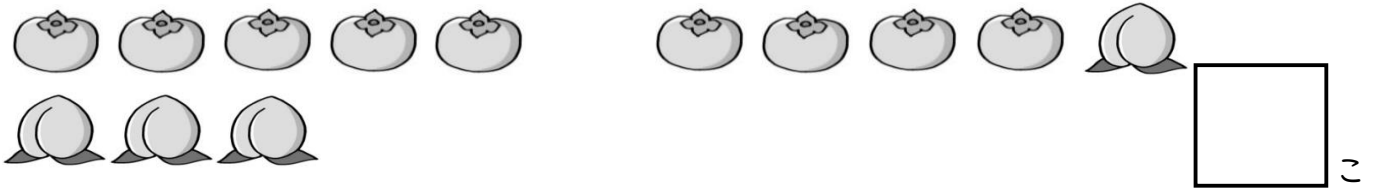
⑤ <sup>しろ</sup>白い かさが 7本、<sup>ほん</sup>くろい かさが 8本 あります。白と くろの かさは、あわせると <sup>ほん</sup>なん本 ありますか。


 ほん本


SI-2054

しょうがく <small>ねん</small> 小学1年	なまえ 名前	
---------------------------------	-----------	--

①かきが 9こ、ももが 4こ あります。かきと ももを あわせると、  
ぜんぶで なんこですか。



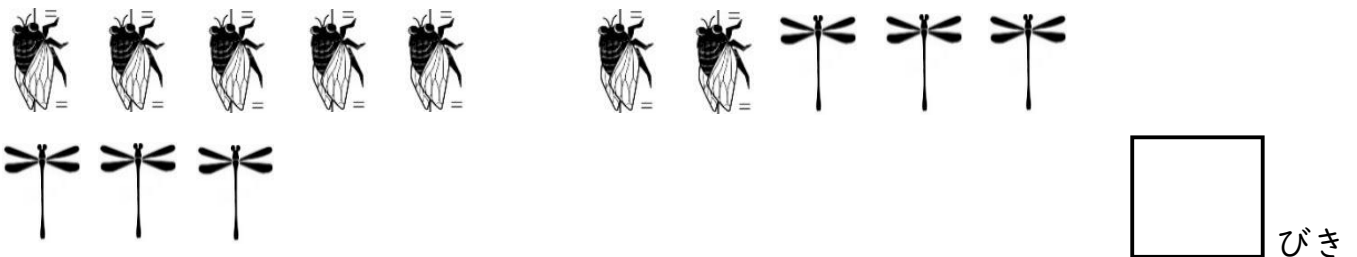
②カレーをつくるので、じゃがいもを 8こ、たまねぎを 5こ つかいました。  
あわせて なんこのじゃがいもとたまねぎを つかいましたか。




③おりがみで さくらの花 はな を 4りん、うめの花 はな を 8りん、きりました。  
おりがみの さくらと うめの花 はな は、ぜんぶで なんりん できましたか。



④とんぼが 6びき、せみが 7ひき います。とんぼとせみを たすと、  
なんびきに なりますか。



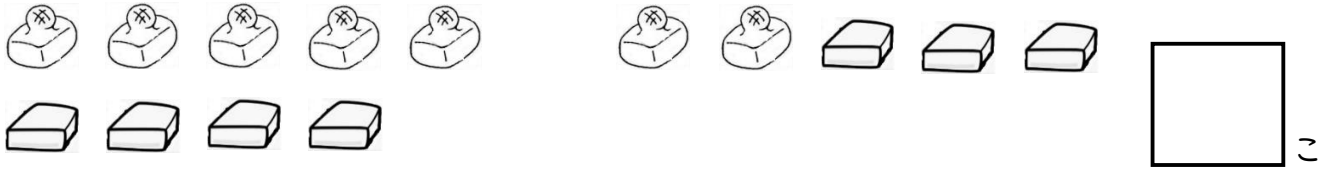
⑤駐 ちゆうしゃじょう 車場に、自 じてんしゃ 転車が 5だい、バ ばい イクが 9だい とまっています。  
りょうほう あわせると、自 じてんしゃ 転車とバ ばい イクは なんだい ありますか。



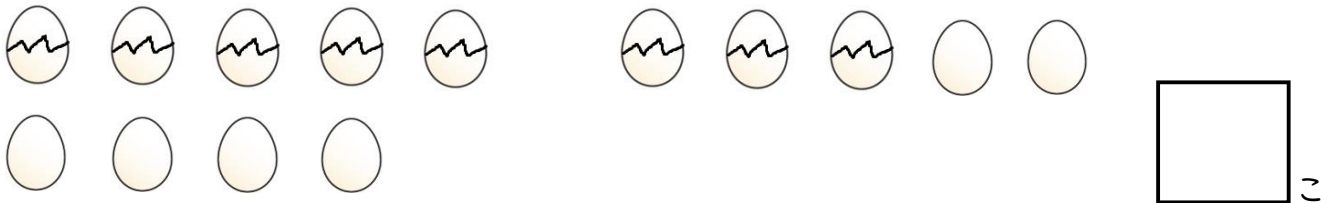
SI-2055

小学1年 名前


① やいたもちと やいてないもちが、それぞれ 7こずつ あります。もちは、ぜんぶで なんこですか。



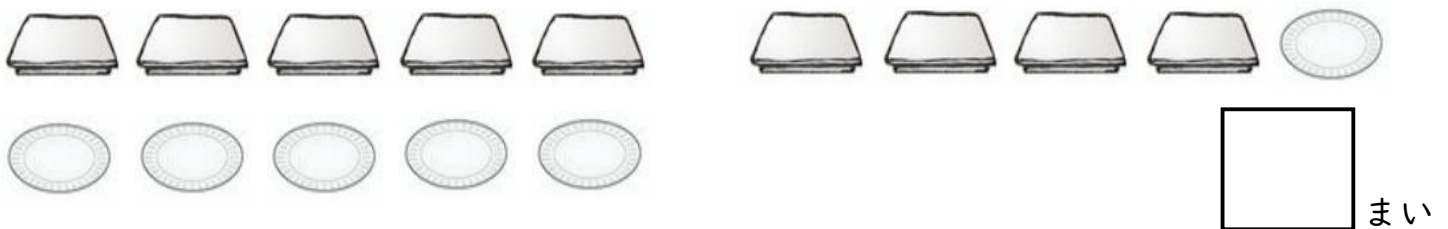
② オムレツをつくるために、たまごを 8こ つかいました。たまごは、まだ 6こ のこっています。さいしょに、たまごは なんこ ありましたか。



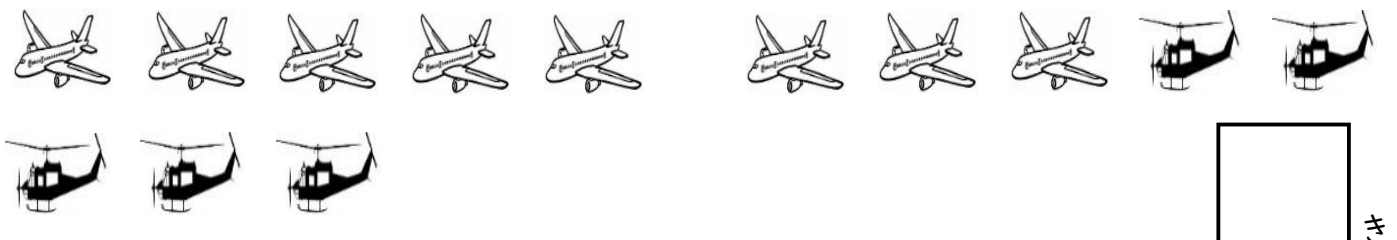
③ スプーンが 5本、フォークが 7本 あります。スプーンと フォークの りょうほうを あわせると、ぜんぶで なん本 ですか。



④ まるいさがら 6まい、四角いさがら 9まい あります。さを ぜんぶ たすと、なんまい ですか。




⑤ 空港に ヘリコプターが 5き、ひこうきが 8き とまっています。ヘリコプターと ひこうきは、あわせて なんき ですか。



SI-2056

しょうがくねん 小学1年 なまえ 名前

- ① 水槽に、金魚が 9ひき います。そこへ、6ひきの めだかを いました。  
水槽の 魚は、ぜんぶで なんびきに なりましたか。


 ひき


- ② 水ふうせんで あそんだら、8こ われました。水ふうせんは、まだ 7こ のこっています。水ふうせんは、さいしょ なんこ ありましたか。


 こ


- ③ 白い うさぎが 2ひき います。ほかの 9ひきは、くろい うさぎです。  
白い うさぎと くろい うさぎを たすと、なんびきに なりますか。


 ぴき

- ④ こうえんに いる 子どもの うち、ぼうしを かぶっていない 子どもは 3人、  
のこりの 8人は ぼうしを かぶっています。子どもは、なん 人 いますか。


 人

- ⑤ 子どもたちの うち、とらを すきな 子どもが 5人、ライオンを すきな  
子どもは 6人です。子どもは、ぜんぶで なん 人 いますか。


 人

もとめるのは 子どもの 数ですが、わかりやすい ように どうぶつで かんがえます。