



わかっている すうじをつかって こたえを もとめましょう。

①りんごが 3こ 、みかんが 1こ あります。

りんごは みかんより なんこ おおいですか。

しき

=

こたえ      こ

②いちりんしゃが 4だい、じてんしゃが 2だいあります。

いちりんしゃの ほうが なんだい おおいですか。

しき

=

こたえ      だい

③スプーン(すぷーん)が 4ほん と フォーク(ふおーく)が 3ほん  
あります。スプーンの ほうが なんほん おおいですか。

しき

こたえ      ほん

④おもちゃの くろいくるまが 5こ、しろいくるまが 3こ  
あります。くろいくるまの ほうが なんこ おおいですか。

しき

こたえ      こ

わかっている すうじをつかって こたえを もとめましょう。

①とんぼが 6 びき、せみが 3 びき とんでいます。

とんぼの ほうが なんびき おおいですか。

しき

こたえ      びき

②にんじんが 10 ぽん、かぶが 3 ぽん あります。

にんじんは かぶより なんぽん おおいですか。

しき

こたえ      ほん

③ちょうが 8 ひき、はちが 4 ひき とんでいます。

ちょうの ほうが はちより なんびき おおいですか。

しき

こたえ      ひき

④あおい かさが 5 ほん、あかい かさが 2 ほん あります。

あおいかさは あかいかさより なんぽん おおいですか。

しき

こたえ      ほん

わかっている すうじをつかって こたえを もとめましょう。

①おとこのこが7にん、おんなのこが3にん います。

おんなのこは おとこのこより なんにん すくないですか。

しき

こたえ にん

②ももが8こ、かきが2こ あります。

かきは ももより なんこ すくないですか。

しき

こたえ こ

③しろいうちわが6ほん、くろいうちわが4ほん あります。

くろいうちわは なんほん すくないですか。

しき

こたえ ほん

④しばいぬが5ひき、あきたいぬが1ひき います。

あきたいぬは しばいぬより なんひき すくないですか。

しき

こたえ ひき

わかっている すうじをつかって こたえを もとめましょう。

①いかが 2ひき、たこが 6ひき います。

いかは たこより なんびき すくないですか。

しき

こたえ ひき

②クッキー (くっきー) が 8まい、せんべいが 3まい あります。

せんべいは なんまい すくないですか。

しき

こたえ まい

③やきゅうにつかうグローブ (ぐろーぶ) が 10こ、ボールが

4こ あります。ボールのほうが なんこ すくないですか。

しき

こたえ こ

④くじらが 9とう、いるかが 3とう います。

いるかは くじらより なんと う すくないですか。

しき

こたえ とう

わかっている すうじをつかって こたえを もとめましょう。

①すいかが4こ、メロン(めろん)が1こ あります。

すいかとメロンの かずのちがいは なんこ ですか。

しき

こたえ      こ

②めがねが7こ、サングラス(さんぐらす)が5こ あります。

ふたつの かずの ちがいは なんこ ですか。

しき

こたえ      こ

③ながぐつが6そく、サンダル(さんだる)が7そくあります。

かずのちがいは なんそくですか。

しき

こたえ      そく

④うきわが8こ、ビーチ(びーち)ボールが5こあります。

ふたつの かずの ちがいは なんこ ですか。

しき

こたえ      こ

わかっている すうじをつかって こたえを もとめましょう。

①かみふうせんが6こ、ゴムふうせんが3こ あります。

かずのちがいは なんこですか。

しき

こたえ      こ

②りんごが6こ、みかんが9こ あります。

りんごと みかんの かずの ちがいは なんこですか。

しき

こたえ      こ

③めざましの とけいが8こ、かべかけの とけいが6こ

あります。ふたつの かずの ちがいは なんこですか。

しき

こたえ      こ

④くろいろのはさみが9ほん、しろいろのはさみが2ほん

あります。かずのちがいは なんほんですか。

しき

こたえ      ほん

わかっている すうじをつかって こたえを もとめましょう。

①えんぴつが7ほん、けしゴムが4こ あります。

けしゴムのほうが なんこ すくないですか。

しき

こたえ      こ

②ケーキ(けーき)が9こ ありますが、さらは2まいしか  
ありません。さらは なんまい たりませんか。

しき

こたえ      まい

③プリン(ぷりん)が10こ、スプーンが7ほん あります。  
スプーンは なんぼん たりませんか。

しき

こたえ      ぼん

④こまが6こ あります。8にんの こどもたちに こまを  
1こずつ くばると、こまは なんこ たりませんか。

しき

こたえ      こ

わかっている すうじをつかって こたえを もとめましょう。

- ① ケーキが10こあるのに、たいし、フォークは6ぽんしかありません。フォークは なんぽん たりませんか。


しき

こたえ      ほん

- ② かさが8ほん あります。4にんの こどもに かさを1ぽんずつ くばると、かさは なんぽん ありますか。

しき

こたえ      ほん

- ③ ほね  7ほんにたいし、いぬは9ひきもいます。いぬにほねを1ぽんずつ あげると、ほねは なんぽん たりませんか。

しき

こたえ      ほん

- ④ ふでばこが4こ あります。こども6にんに ふでばこを1こずつ くばると、ふでばこは なんこ たりませんか。

しき

こたえ      こ



わかっている すうじをつかって こたえを もとめましょう。

①とんぼが 5 ひき、せみが 2 ひき とんでいます。

どちらが なんびき おおいですか。

しき

こたえ が びき おおい

②りんごが 7 こ、みかんが 4 こ あります。

どちらが なんこ すくないですか。

しき

こたえ が こ すくない

③スプーンが 7 ほん、フォークが 3 ほん あります。

どちらが なんほん おおいですか。

しき

こたえ が ほん おおい

④いぬが 3 ひき、ねこが 9 ひき います。

どちらが なんびき すくないですか。

しき

こたえ が ひき すくない

わかっている すうじをつかって こたえを もとめましょう。

①あおいボールが4こ、あかいボールが5こ あります。

どちらが なんこ おおいですか。

しき

こたえ が こ おおい

②トラック (とらっく) が6だい、バス (ばす) が2だい

あります。どちらが なんだい すくないですか。

しき

こたえ が だいくない

③にわとりが6わ、ひよこが9わ います。

どちらが なんわ すくないですか。

しき

こたえ が わ すくない

④やきゅうぼうが8こ、おぎわらぼうしが2こ あります。

どちらが なんこ おおいですか。

しき

こたえ が こ おおい