

プリントスタディー 算数 文章題 (ぶんしょうだい)

S2-301

小学2年生

名前

問題(もんだい)を読(よ)んで式(しき)を立て、答(こた)えを出(し)しましょう。
あいているところで筆算(ひっさん)をしてもいいです。

- ①きいろの花が12本、赤いろの花が7本さいています。花は、全部(ぜんぶ)で何本(なんぼん)さいていますか。

式



答え

- ②ぼくたちは、とんぼを13ひきとりました。さらに4ひきとりました。ぼくたちは、全部(ぜんぶ)で何(なん)ひきのとんぼをとりましたか。

式



答え

- ③キャンディーが35こ、クッキーが3こあります。キャンディーとクッキーを合(あ)わせると、全部(ぜんぶ)で何こですか。

式



- ④わたしはえんぴつをあつめていて、51本もっています。おこづかいで、また8本買(か)いました。わたしのえんぴつは、何本になりましたか。

式



答え

- ⑤犬が24匹(ひき)、ねこが5匹(ひき)います。犬とねこを合(あ)わせると、全部(ぜんぶ)で何匹(ひき)いますか。

式



答え

- ⑥ぼくはけしゴムをあつめていて、46こもっています。友(とも)だちに3こもらいました。ぼくのけしゴムは、全部(ぜんぶ)で何こになりましたか。

式



答え

プリントスタディー 算数 文章題 (ぶんしょうだい)


S2-302

小学2年生	名前	
-------	----	--

問題(もんだい)を 読(よ)んで 式(しき)を 立て、答(こた)えを 出(し)しましょう。
あいているところで 筆算(ひっさん)をしてもいいです。

- ①バスに、こどもたちが 17人 のっています。つぎの えきで、さらに 7人が のってきました。バスに のっている こどもの数は、今(いま) 何人ですか。

式



答え

- ②わたしは、ビー玉を 24こ もっています。おねえさんが、8こ わけてくれました。わたしのビー玉は、何こに なりましたか。

式



答え


- ③おもちゃの 車を あつめるのが すきなので、ぼくは 58こ もっています。おばあちゃんが 5こ 買(か)ってくれました。ぼくの 車は 何こに なりましたか。

式



- ④りんごが 32こ、みかんが 9こあります。りんごとみかんを 合(あ)わせると、何こに なりますか。

式



答え

- ⑤馬(うま)が 49頭(とう) います。おこうから、ほかの馬が 8頭きました。馬は、ぜんぶで 何頭に なりましたか。

式



答え

- ⑥わたしは カードを あつめていて、73まい もっています。友(とも)だちに 7まい もらいました。わたしのカードは、全部で 何まいに なりましたか。

式



答え

プリントスタディー 算数 文章題 (ぶんしょうだい)

S2-303

小学2年生	名前	
-------	----	--

問題(もんだい)を 読(よ)んで 式(しき)を 立て、答(こた)えを 出(だ)しましょう。
あいているところで 筆算(ひっさん)をしてもいいです。

- ①キャンディーが 35こ、クッキーが 24こ あります。キャンディーとクッキーを 合(あ)わせると、全部で 何(なん)こですか。

式



答え

- ②ぼくは、56円のけしゴムを1こ 32円のえんぴつを1本 買(か)いました。
けしゴムとえんぴつに、ぼくは いくら はらいましたか。

式



答え

- ③黒色(くろいろ)の 犬(いぬ)が 14匹(ひき)、茶色(ちゃいろ)の 犬(いぬ)が 23匹(ひき) います。
黒色と 茶色の 犬(いぬ)は、全部で 何(なん)匹(ひき) いますか。

式



答え

- ④黄色(きいろ)の花(はな)が 12本(ぼん)、赤色(いろ)の花(はな)が 46本(ぼん) さいています。黄色と赤色の 花(はな)は、ぜんぶで 何(なん)本(ぼん) さいていますか。

式



答え

- ⑤わたしは、けしゴムを2こ 買(か)いました。1こは 31円で、もう1こは 48円です。
けしゴムの代金(だいきん)は いくらですか。 *代金(だいきん)=しなものにはらうお金のこと

式



答え

- ⑥きのう、ぼくたちは とんぼを 45匹(ひき)も とりました。きょうは 23匹(ひき)とりました。
ぼくたちは、全部で 何(なん)匹(ひき)の とんぼを とりましたか。

式



答え

プリントスタディー 算数 文章題 (ぶんしょうだい)

S2-304

小学2年生

名前

問題(もんだい)を読(よ)んで式(しき)を立て、答(こた)えを出(し)しましょう。
あいているところで筆算(ひっさん)をしてもいいです。

- ①わたしは、59円のキャンディーと23円のガムを1こずつ買(か)いました。
わたしは、キャンディーとガムにいくら はらいましたか。

式

Sample



答え

- ②えんそくに行(い)き、どんぐりひろいをしました。男子は28こ、女子は66このどんぐりをひろいました。みんなでひろったどんぐりは何こですか。

式



答え

- ③ぼくたちの学年は、男子が45人で女子が47人の3クラスです。男子と女子を合(あ)わせると何人ですか。

式



答え

- ④わたしはビー玉をあつめていて、もようのあるビー玉を34こ、もようのないビー玉を57こもっています。わたしのビー玉は何こでしょうか。

式



答え

- ⑤ぼくは、カードを2まい買(か)いました。1まいは47円で、もう1まいは36円です。ぼくが買ったカードは、2まいでいくらですか。

式



答え

- ⑥果物屋(くだものや)さんに、ももが44こ、かきが39こならんでいます。ももとかきを合わせると、ぜんぶで何こですか。

式



答え

プリントスタディー 算数 文章題

S2-305

小学2年生	名前	
-------	----	--

問題を読んで式を立て、答えを出しましょう。

あいているところで筆算をしてもいいです。

- ①しんせきの農家(のうか)から、にんじん 29本ときゅうり 36本を もらいました。
にんじんと きゅうりは、合(あ)わせて 何本 ありますか。

式

*農家=米(こめ)や 野菜(やさい)を作(つく)っている家(いえ)



答え

- ②みんなで もちつきをして、丸(まる)い もちを 37こ、四角(しかく)い もちを 59こ作(つく)りました。みんなで 作ったもちは何こですか。

式



答え

- ③わたしは おはじきを あつめていて、数(かぞ)えたら 66こありました。姉(あね)から、さらに 25こ もらいました。わたしのおはじきは 何こに なりましたか。

式



答え

- ④ぼくは、ゲームのカードを 68まい もっています。つくえを かたづけていたら、おくから 17まいも 出てきました。ぼくのカードは、何まいに なりましたか。

式



答え

- ⑤駐車場(ちゅうしゃじょう)に、白い車が 23台(だい)、黒(くろ)い車が 48台 とまっています。駐車場には、何台の車が とまっていますか。

式



答え

- ⑥黄色(きいろ)のチューリップが 32本、赤色(あか)のチューリップが 38本 さいています。チューリップは、全部で 何本さいていますか。

式



答え

プリントスタディー 算数 文章題

S2-306

小学2年生	名前	
-------	----	--

問題を読んで式を立て、答えを出しましょう。

あいているところで筆算をしてもいいです。

- ①ぼくと兄(あに)はスーパーボールをあつめていて、ぼくは27こ、兄は48こもっています。二人のスーパーボールを合わせたら、何こになりますか。

式



答え

- ②わたしは、16円のえんぴつ1本と69円のノート1冊(さつ)を買いました。えんぴつ1本とノート1冊に、わたしはいくらはらいましたか。

式



答え

- ③ぼくはゲームのカードを19まいしかもっていないので、お兄(にい)ちゃんが77まいもぼくにわけてくれました。ぼくのカードは何まいになりましたか。

式



答え

- ④わたしたちの学年は3クラスあり、男子が46人で女子は38人です。わたしたちの学年は、全部(ぜんぶ)で何人ですか。

式



答え

- ⑤ぼくは、折り紙(おりがみ)の金と銀(ぎん)を25まいもっています。ほかの色紙(いろがみ)も59まいあります。ぼくの折り紙は、全部で何まいですか。

式



答え

- ⑥わたしは、69円のガムと24円のキャンディーを1こずつ買いました。ガムとキャンディーの代金(だいきん)はいくらですか。 *代金=しなものにはらうお金

式



答え

プリントスタディー 算数 文章題 再アップする

S2-307

小学2年生	名前	
-------	----	--

問題を読んで式を立て、答えを出しましょう。

あいているところで筆算をしてもいいです。

- ①給食(きゅうしょく)のカレーに、にんじん34こ ジャガイモ 96こが入っている
そうです。カレーに入っている にんじんと ジャガイモは、全部で 何こですか。


式



答え _____

- ②わたしの学年は 5クラスあり、男子71人、女子89人です。男子と女子を 合わせ
ると、わたしの学年は 何人ですか。


式



答え _____

- ③青のリボン 55本と 赤のリボン 68本を つかい、運動会(うんどうかい)の かざりを
作(つく)りました。つかった リボンは 何本ですか。


式



答え _____

- ④昨日(きのう)、ぼくは 本を 93ページまで 読(よ)みました。今日(きょう)は、
さらに 47ページ 読みました。ぼくは、本を 何ページまで 読みましたか。

式



答え _____

- ⑤いちごがりに行(い)き かごに入れた いちごを数(かぞ)えたら、わたしは67こ、
姉(あね)は 77こも ありました。二人のいちごは、合わせると 何こですか。

式



答え _____

- ⑥卒業(そつぎょう)する 6年生は、男子88人で 女子は89人です。6年生は、
男子と女子を 合わせて 何人ですか。

式



答え _____

プリントスタディー 算数 文章題

S2-308

小学2年生	名前	
-------	----	--

問題を読んで式を立て、答えを出しましょう。

あいているところで筆算をしてもいいです。

- ①はしのもち方(かた)を れんしゅうするために、ぼくは238つぶ、妹(いもうと)は236つぶの豆(まめ)をはしてつまみました。二人で何つぶの豆をつまみましたか。

式



答え

- ②わたしと弟(おとうと)は1円玉貯金(ちょきん)をしています。わたしは459円、弟は143円 たまっています。二人の貯金は、合わせていくらですか。


式



答え

- ③運動会(うんどうかい)のかざりつけて、紙(かみ)の花を作りました。ピンクの花が395こ、青の花が469こ できました。紙の花は、ぜんぶで何こ できましたか。


式



答え

- ④夏(なつ)休みに、ぼくは2冊(さつ)の本を読みました。1冊は783ページ、もう1冊は248ページでした。夏休みに、ぼくは本を何ページ読みましたか。

式



答え

- ⑤旅行(りょこう)で、お母さんがおみやげを二つ買いました。一つは494円、もう一つは526円です。おみやげの代金(だいきん)はいくらでしたか。

式



答え

- ⑥冬(ふゆ)休みに、わたしは本を2冊読(よ)みました。ページ数は、349ページと687ページです。わたしが冬休みに読んだ本のページ数は、何ページですか。

式



答え
