

プリントスタディー 算数 文章題(ぶんしょうだい)

S2-361

小学2年生

名前

問題(もんだい)を 読(よ)んで 式(しき)を 立て、答(こた)えを 出(だ)しましょう。
あいているところで 筆算(ひっさん)をしてもいいです。

- ① ペットショップに行(い)ったら、犬(いぬ)が 27匹(ひき)、ねこが 13匹(ひき) いました。
犬(いぬ)とねこは、合(あ)わせて 何(なん)匹(ひき) いましたか。

式



答え

- ② ぼくたち 2年生(にねんせい)は 2クラス(にくらす)あり、男の子(おとこのこ)が 36人(にん)、女の子(めいこのこ)が 26人(にん)です。2年生(にねんせい)は、全部(ぜんぶ)で 何(なん)人(にん)ですか。

式



答え

- ③ わたしは、リボン(りぼん)を 72本(ほん) もっています。赤(あか)い リボン(りぼん)が 35本(ほん)で、のこりは全部(ぜんぶ) 青(あお)いリボン(りぼん)です。わたしは、青(あお)いリボン(りぼん)を 何(なん)本(ほん) もっていますか。

式



答え

- ④ 丸(まる)い 風船(ふうせん)が 58こ、ハート形(がた)の 風船(ふうせん)が 34こ あります。
両方(りょうほう)合(あ)わせると、風船(ふうせん)は 何(なん)こ ありますか。


式



答え

- ⑤-1 ぼくたち 2年生(にねんせい)93人(にん)が、うどん(うどん)と ラーメン(ラーメン)の どちら(どちら)を すきか(すきか)について しらべたら、うどん(うどん)を すきな人(にん)が 29人(にん)でした。ラーメン(ラーメン)を すきな人(にん)は 何(なん)人(にん)ですか。

式



答え

- 2 スパゲッティ(スパゲッティ)を 入れて しらべ(しらべ)なおしたら、うどん(うどん)を すきな人(にん)数(かず)は かわらず、ラーメン(ラーメン)を すきな人(にん)は 27人(にん)でした。スパゲッティ(スパゲッティ)を すきな人(にん)は 何(なん)人(にん)ですか。

式



答え

プリントスタディー 算数 文章題

S2-362

小学2年生	名前	
-------	----	--

問題を読んで式を立て、答えを出しましょう。

あいているところで筆算をしてもいいです。

- ①バスにおきゃくさんが42人のっていて、つぎのバス停(てい)で18人がおりました。今(いま)、バスにのっているおきゃくさんの数は、全部で何人ですか。

式



答え

- ②わたしと妹(いもうと)は、折り紙(おりがみ)で鶴(つる)を65羽(わ)折りました。わたしが折(お)った鶴は39羽です。妹は、何羽の鶴を折りましたか。

式



答え

- ③ぼくは、34まいのカードを弟(おとうと)にあげました。のこったカードは82まいです。ぼくのカードは、さいしょに何まいありましたか。


式



答え

- ④わたしの家(いえ)はケーキ屋(や)です。ケーキ作りにたまごを76こつかい、まだ74このこっています。もともと、たまごは何こありましたか。


式



答え

- ⑤-1 2年生83人が、野球(やきゅう)とサッカーのどちらをすきかしらべたら、野球をすきな人は25人でした。サッカーをすきな人は何人ですか。

式



答え

- 2 バasketボールを入れてしらべなおしたら、野球をすきな人はかわらず、サッカーをすきな人は29人でした。Basketをすきな人は何人ですか。

式



答え

プリントスタディー 算数 文章題

S2-363

小学2年生	名前	
-------	----	--

問題を読んで式を立て、答えを出しましょう。

あいているところで筆算をしてもいいです。

- ①64円のけしゴムを買うために、ぼくはおこづかいの100円玉でしはらいをしました。おこづかいは、いくら のこっていますか。

式



答え

- ②母(はは)に1本のゆりをプレゼントするために、わたしは85円出し、たりない分(ぶん)の96円を兄(あに)が出しました。ゆりの花の代金は、1本いくらですか。

式



答え

- ③遠足(えんそく)に行き、男子が94こ、女子が77このどんぐりをひろいました。男女合わせて、何このどんぐりをひろいましたか。


式



答え

- ④ぼくの学校は大きくて、2年生は6クラス207人もいます。そのなかで、男子の人数(にんずう)は89人です。女子の人数は何人ですか。

式



答え

- ⑤-1 わたしは、一部(ぶ)69ページ、二部88ページからなる冒険(ぼうけん)の本を読むつもりです。わたしは、何ページ読むことになりますか。

式

*冒険=成功(せいこう)するかどうかわからないことにちょうせんすること



答え

- 2 読んでいる途中(とちゅう)で用事(ようじ)ができたので、二部はまだ、58ページも のこっています。今(いま)までで、わたしは何ページ読みましたか。

式



答え

プリントスタディー 算数 文章題

S2-364

小学2年生	名前	
-------	----	--

問題を読んで式を立て、答えを出しましょう。

あいているところで筆算をしてもいいです。

- ①-1 わたしは、同(おな)じ長(なが)さの青いリボンを25本、赤いリボンを38本もっています。わたしがもっているリボンは、全部で何本ですか。

式



答え

- 2 どちらの色のリボンが、何本少(すく)ないですか。

式

青いリボン

赤いリボン

答え

- 3 さらにわたしは、白いリボンを67本もらいました。今もっている青と赤のリボンを合わせた数ともらった白いリボンをくらべると、どちらが何本多いですか。

式



答え

- 4 リボンの長(なが)さは、どれも15センチメートルです。3の答えの本数を長さであらわすと、何センチメートルになりますか。(たし算で答えを出します)

式

15cm

答え

- ②-1 2年生93人のおべんとうのおにぎりの形(かたち)をしらべたら、たわらがたのおにぎりが36人でした。たわらがたとちがうおにぎりの人は、何人ですか。

式



答え

- 2 たわらがたおにぎりのほかに三角(さんかく)おにぎりとおにぎりで、丸がたおにぎりの人は19人でした。三角おにぎりの人は何人ですか。
でした。

式



答え

プリントスタディー 算数 文章題

S2- 365

小学2年生	名前	
-------	----	--

問題を読んで 式を立て、答えを出しましょう。

あいているところで 筆算をしてもいいです。

- ①-1 一昨日(おととい)、昨日(きのう)、今日(きょう)の3日間で、ぼくは 923ページある本の 534ページまで 読(よ)みました。本の のこりは 何ページですか。

式



答え

- 2 読み おわった 534ページのうち、一番 多(おお)く 読んだ日は 一昨日で、378ページも 読みました。ぼくは、昨日と今日で 何ページ 読みましたか。

式

一昨日

昨日 今日

答え

- 3 明日(あす)は のこりのうちの 193ページを読み、最後(さいご)の 章(しょう)は 明後日(あさって) 読むつもりです。最後の 章は 何ページですか。

式

*章=大きくわけた ひとまとまりの文章(ぶんしょう)1章、2章などと書きます

明日

明後日

答え

- ②-1 わたしは、貯金(ちょきん)の1500円で 857円のまんがの本を買いました。おつりは いくらですか。

式



答え

- 2 378円と 784円の まんがの本が あります。おつりで もう1冊 買うなら、どちらのまんがが 買って、おこづかいは いくらのこりですか。

式

おつり

答え

- 3 けっきょく、わたしは 2冊の まんがの本を 買いました。まんがの本に、わたしは いくら つかいましたか。

式

まんが1

まんが2

答え